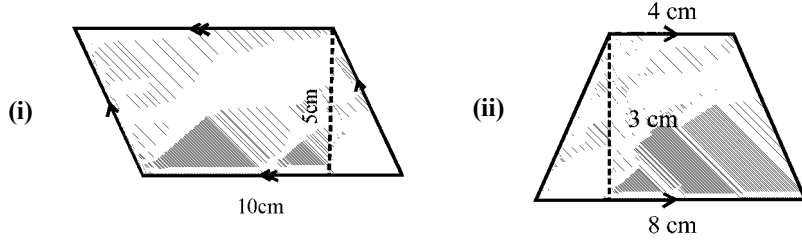


Time: 10 Minutes	Paper Math 6 (T-1)	Total Marks: 10
4th Month, 2nd Week, 1st Day	Exercise 8.2 Q # 1, 2 (i, ii, iii)	

☆ Answer the following questions: درج ذیل سوالات کے جواب دیں۔

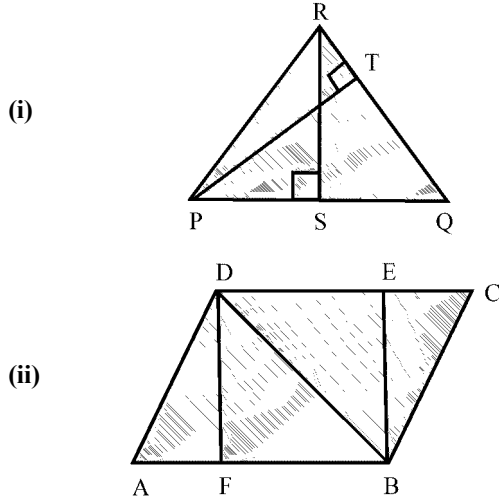
Q.1. Calculate the area and perimeter for each of these parallelograms, trapeziums and triangles. (2x3=6)

دی گئی متوازی اضلاع، ذوزنقہ اور مثلثان کا رقبہ معلوم کریں۔



Q.2. Identify the altitudes of the given figures. (2x2=4)

دی گئی تصاویر میں ارتفاع کی شناخت کریں۔

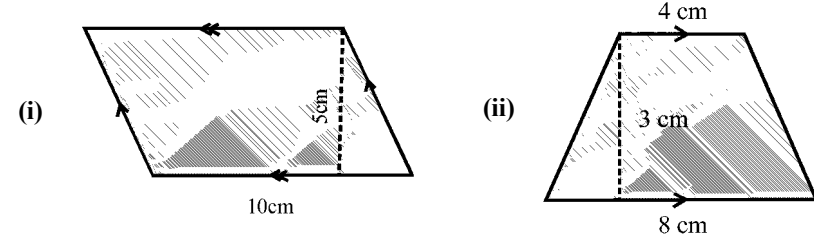


Time: 10 Minutes	Paper Math 6 (T-1)	Total Marks: 10
4th Month, 2nd Week, 1st Day	Exercise 8.2 Q # 1, 2 (i, ii, iii)	

☆ Answer the following questions: درج ذیل سوالات کے جواب دیں۔

Q.1. Calculate the area and perimeter for each of these parallelograms, trapeziums and triangles. (2x3=6)

دی گئی متوازی اضلاع، ذوزنقہ اور مثلثان کا رقبہ معلوم کریں۔



Q.2. Identify the altitudes of the given figures. (2x2=4)

دی گئی تصاویر میں ارتفاع کی شناخت کریں۔

